

ĐỀ KHẢO SÁT TUYỂN SINH VÀO LỚP 6
TRƯỜNG CHUYÊN TRẦN ĐẠI NGHĨA
(Đề chính thức)

(NĂM HỌC 2015 – 2016)

BÀI KHẢO SÁT: TRẮC NGHIỆM

Ngày khảo sát: 20 tháng 6 năm 2015

Thời gian làm bài: 45 phút (không kể thời gian phát bài)

Question 1: In this fable there is an underlined blank.

Hai người bạn

Có hai người bạn đang đi với nhau trong rừng thì tình cờ gặp một con gấu. Một người nhanh chân leo lên một cây cao. Người còn lại biết là thế nào mình cũng bị tấn công liền vội nằm lăn ra đất.


Gấu lại gần và dí mõm ngửi khắp người anh ta. Anh ta nín thở và giả vờ như đã chết. Chẳng bao lâu, con gấu bỏ đi _____ gấu không bao giờ đụng đến xác chết.

Khi con gấu đã đi khỏi, người ở trên cây leo xuống và đùa cợt hỏi thăm người bạn mình là gấu đã thăm thì điều gì vào tai anh thế. “Nó khuyên tôi,” người bạn trả lời, “đừng bao giờ làm bạn với một người bỏ mình khi gặp nguy hiểm.”

The suitable word to fill in that underlined blank is _____

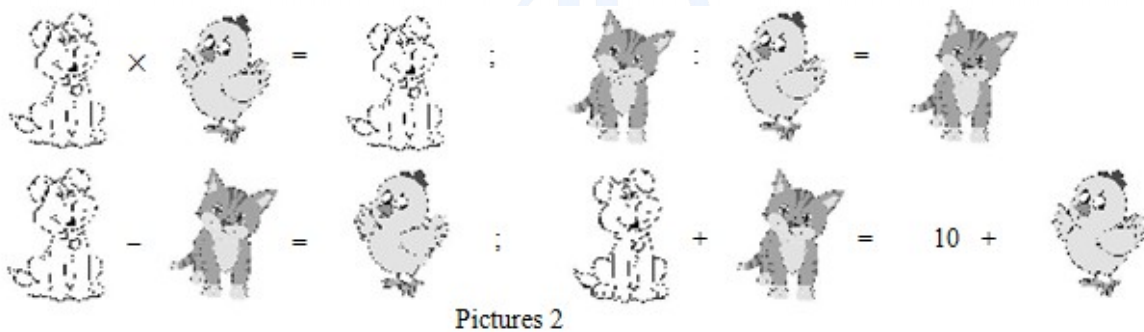
- A. nên
- B. dù
- C. nhưng
- D. vì

Question 2: Look at pictures 1. Which of pictures 1a, 1b, 1c, or 1d is the silhouette (bóng đen) of picture 1e?



- A. Picture 1a
- B. Picture 1b
- C. Picture 1c
- D. Picture 1d

Question 3: In the following calculations of pictures 2, “dog”, “cat”, and “chicken” are used to represent different numbers.



Please, tell which number “dog” represents?

- A. 5
- B. 4
- C. 7
- D. 6

Question 4: Read this proverb:


Một sự nhịn, chín sự lành.

The word “lành” in the proverb means _____

- A. Hiền lành

- B. Tốt lành
- C. Lành lạnh
- D. Lành nghề

Question 5: Pictures 3 show four jigsaws of a painting. Which of the following orders (from left to right) makes a complete) painting



3a

3b

3c

3d

Pictures 3

- A. 3a, 3b, 3d, 3c
- B. 3c, 3b, 3a, 3d
- C. 3b, 3d, 3a, 3c
- D. 3d, 3a, 3c, 3b

Question 6: January 1st 2015 is a Thursday, January 1st 2016 is a _____

- A. Thursday
- B. Friday
- C. Wednesday
- D. Saturday

Question 7: Photo 4 shows the milestone of an important campaign in our country's history. This milestone occurred in _____



Photo 4

- A. 1954
- B. 1968
- C. 1945
- D. 1975

Question 8: Which of the following names is that of a well-known man in the history of Vietnam, who is attached to many glorious feats (chiến thắng oanh liệt) against Mông-Nguyên invaders (quân xâm lược)?

- A. Trần Quốc Tuấn
- B. Thoát Hoan
- C. Nguyễn Huệ
- D. Tôn Sĩ Nghị

Question 9: After being out in the sun for quite some time, when we just come back home we should _____

- A. drink some iced water immediately
- B. take a cool bath immediately
- C. take a rest under a shade

D. drink some really hot water immediately

Question 10: To keep our body healthy, we need to drink enough water. People over 11 years of age can roughly calculate the amount of water they need to drink per day by this formula:

amount of water (litre) = $0.01 \times \text{person weight (kilogram)} + 1.2$.

From that, the amount of water you yourself should drink per day is approximately


- A. 1.5 – 2 litres
- B. 0.5 – 1 litre
- C. 2.5 – 3.5 litres
- D. 4 – 5 litres

Question 11: An English student is 4 feet 2 inches (50 inches) tall. The height of this student by centimeter is

Note: You can use the conversion table on the ruler given to you to answer this question.

- A. 102 cm
- B. 132 cm
- C. 117 cm
- D. 127 cm

Question 12: The traffic sign (picture 5) has red background and a white horizontal line. What is the meaning of the traffic sign?



Picture 5

- A. Cấm xe ô tô lưu thông
- B. Cấm đậu xe
- C. Cấm xe đi ngược chiều
- D. Cấm người đi bộ

Question 13: Fiber (chất xơ) in some kinds of food is necessary for the digestive system (hệ tiêu hóa) to work normally. We need to eat enough food rich in fiber. The kinds of food rich in fiber are _____

- A. rice, corn.
- B. eggs, milk.
- C. fruits, vegetables.
- D. meat, fish.

Question 14: Photo 6 shows a general commander whose name is attached to the Điện Biên Phủ victory in 1954 of Việt Nam. What is his name?



Photo 6

- A. Phan Đình Giót
- B. Bê Văn Đàn
- C. Võ Nguyên Giáp
- D. Nguyễn Ái Quốc

Question 15: A sailing boat can move thanks mainly to the power of _____

- A. water current.
- B. wind.
- C. sunshine.
- D. gasoline.

Question 16: Among the districts and precincts in Hồ Chí Minh city, which one has the largest area and joins the East Sea?

- A. Cần Giờ
- B. Củ Chi
- C. Hóc Môn
- D. Bình Chánh

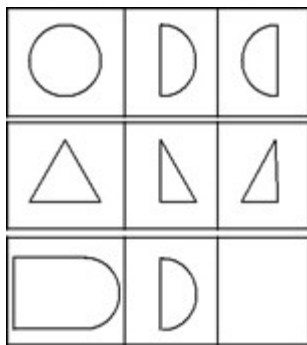
Question 17: The kind of food that should be taken in no more than 10 grams per day is _____

- A. vegetables
- B. meat
- C. salt
- D. fat

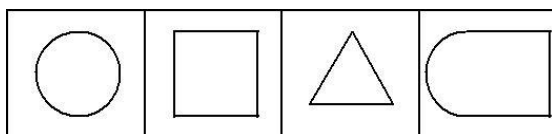
Question 18: In Hồ Chí Minh city, the temperature in summer is about 30°C - 34°C . To be healthy, it is advisable that the temperature in an air-conditioned room be lower than the outside temperature about 5°C . So, during summer, in an air-conditioned room, we should adjust the air-conditioner at the temperature of _____

- A. below 20°C
- B. about 25°C - 29°C
- C. above 30°C
- D. about 20°C - 24°C

Question 19: There are three chains in pictures 7. Each chain consists of three pictures as follow. There is a common rule for the pictures in each chain. In pictures 8, the picture suitable to be put in the box marked “?” of pictures 7 is picture



Pictures 7



- 8a
- 8b
- 8c
- 8d

Pictures 8

- A. 8a
- B. 8b

C. 8c

D. 8d

Question 20: Read the information and the question, then choose the correct answer:

Báo Tuổi Trẻ ngày 10 tháng 5 năm 2015 cho biết: Tỉ phú Hong Kong Yu Pang-Lin vừa qua đời ở tuổi 93, để lại di chúc hiến toàn bộ tài sản trị giá khoảng 2 tỉ USD cho hoạt động từ thiện mà không để lại cho con cái. Nhà tỉ phú này cho rằng nếu các con của ông giỏi giang thì chẳng cần phải để lại nhiều tiền cho chúng, còn nếu chúng kém cỏi thì có nhiều tiền cũng chỉ có hại cho chúng mà thôi. Tương tự, tỉ phú Warren Buffett viết di chúc chỉ để lại 10% tài sản của mình cho con, còn lại là để làm từ thiện. Tuy nhiên, các người con, dù không phải giàu có, cũng từ chối và dành luôn số tiền đó cho từ thiện.

We can infer from the information that those billionaires do NOT want their children to have which of the following?

A. Lòng nhân ái.

B. Tính tự lập.

C. Năng lực làm việc.

D. Sự dựa dẫm.

Question 21: When used for cooking, which of the following ovens does NOT need oxygen in the air?

A. Oil oven.

B. Electric oven.

C. Gas oven.

D. Coal oven.

Question 22: In a PE period, four students Minh, Anh, Hùng, Dũng are practicing jogging. The given fact is that the higher his running speed is, the faster he runs.

The distance and the time each student runs are listed in the side box. Of the four students, the one who runs the fastest is _____

Student	Distance (metre)	Time (second)
Minh	30	6
Anh	40	10
Hùng	54	15
Dũng	80	25

- A. Minh
- B. Anh
- C. Hùng
- D. Dũng

Question 23: At night, should we put in our bedrooms a lot of green plants?

- A. Yes, because at night plants take in oxygen.
- B. No, because at night plants take in oxygen.
- C. Yes, because at night plants give out oxygen.
- D. No, because at night plants give out oxygen.

Question 24: Which of the following cities and provinces does NOT produce salt from sea water?

- A. Thành phố Hồ Chí Minh
- B. Đắk Lắk
- C. Bạc Liêu
- D. Ninh Thuận

Question 25: Minh and his mother are buying stationeries. Minh buys a ruler priced 5000 đồng, a pair of compasses priced 12 000 đồng, and a pencil priced 4 000 đồng. Minh's mother gives the shop owner 50 000 đồng.

How much money does the shop owner have to give his mother back?

- A. 21000 đồng
- B. 19000 đồng
- C. 31000 đồng
- D. 29000 đồng

Question 26: Read this part of a letter:

“Non sông Việt Nam có trở nên tươi đẹp hay không, dân tộc Việt Nam có bước tới đài vinh quang để sánh vai với các cường quốc năm châu được hay không, chính là nhờ một phần lớn ở công học tập của các em.”

(*Tiếng Việt 5, tập 1, trang 5*)

The phrase “Non sông” in this part of the letter is NOT synonymous with which of the following phrases?

- A. Giang sơn
- B. Đất nước
- C. Đồng bào
- D. Quê hương

Question 27: Read this extract from the following poem:

*Trái đất này là của chúng mình
Quả bóng xanh bay giữa trời xanh
Bỏ câu ơi, tiếng chim gù thương mến
Hải âu ơi, cánh chim vờn sóng biển
Cùng bay nào, cho trái đất quay !*

Cùng bay nào, cho trái đất quay ! (Trích *Bài ca về trái đất*, Đinh Hải, *Tiếng Việt 5*, tập 1, trang 41)

The phrase “chim gù” in the extract does NOT belong with which of the following phrases?

- A. gà gáy
- B. chuột rúc
- C. lợn què
- D. ngựa hí

Question 28: Read the information and the question, then choose the correct answer:

<p>Câu 1: <i>Ai ơi bung bát cơm đây, Đẻo thơm một hạt đắng cay muôn phần.</i></p>	<p>Câu 2: <i>Bầu ơi thương lấy bí cùng, Tuy rằng khác giống nhưng chung một giàn</i></p>
<p>Câu 3: <i>Nhiều điều phủ lấy giá gương, Người trong một nước phải thương nhau cùng.</i></p>	<p>Câu 4: <i>Khôn ngoan đối đáp người ngoài, Gà cùng một mẹ chớ hoài đá nhau.</i></p>

Which of the above-mentioned folk verses do NOT belong with the other ones?

- A. Câu 3
- B. Câu 4
- C. Câu 2
- D. Câu 1

Question 29: Scientists say that one way to keep our body healthy is to walk a distance of about 6 km per week. One person walks 100 steps per minute, each step

is 0.4 m. To keep fit, the amount of time this person needs to walk per week is _____

- A. 2 hours 30 minutes.
- B. 2 hours.
- C. 1 hour 30 minutes.
- D. 3 hours 30 minutes.

Question 30: The time in Singapore is an hour ahead of that in H ồ Chí Minh city (HCMC). For example, when it is 11 am in HCMC, it is 12 am in Singapore. A plane departing from HCMC at 6 am (Vietnam time) arrives in Singapore at 9:10 am (Singapore time). Supposing the flying time from HCMC to Singapore is the same as that from Singapore to HCMC. A plane departing from Singapore at 2:20 pm (Singapore time) arrives (according to Vietnam time) in HCMC at _____

- A. 3:30 pm
- B. 3:10 pm
- C. 5:30 pm
- D. 5:10 pm

THE END



ĐỀ 1

NĂM HỌC 2015 – 2016

BÀI KHẢO SÁT: TỰ LUẬN

Ngày khảo sát: 20 tháng 6 năm 2015

Thời gian làm bài: 45 phút (không kể thời gian phát bài)

Question 1: Following is a poem in the Nhi đồng issue 21, 22/5/2015, in which some words are missing:

Mùa hè của bé

Mùa hè nắng vàng

Âm vang ve hát

Hè được tưới mát

Nhờ cơn (1)... rào

(2)... biếc trời cao

(3)... trôi nhè nhẹ

Sáo diều khe khẽ

Ngân trên tầng không

Hè về quê ông

Vườn cây trái (4)...

Hứng đầy tiếng hát

Lòng thêm rộn ràng

Đoàn Xuân Anh Đức (Lớp 2/1, Trường TH Đinh Tiên Hoàng, Q.9)

Please, write (in Vietnamese) on the following lines the missing words that you think are suitable in the blanks (1), (2), (3), and (4)

(1): _____

(2): _____

(3): _____

(4): _____

Question 2: Do the following crossword puzzle. (Write the words without breaks, in capitalized words, and without accents)

- Horizontal:

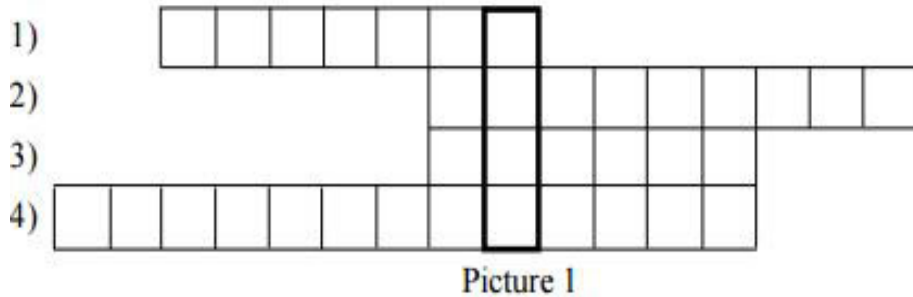
1) Tên của một bến cảng trước kia tại Sài Gòn (Thành phố Hồ Chí Minh), nơi Bác Hồ ra đi tìm đường cứu nước năm 1911, là ...

2) Trung tâm công nghiệp lớn nhất của Việt Nam là Thành phố ...



3) Nguyễn Thị Ánh Viên là nữ vận động viên bơi lội xuất sắc của Việt Nam. Tại Đại hội thể thao Đông Nam Á tháng 6 năm 2015 (SEA Games 28) ở Singapore, chị đã đoạt 8 huy chương vàng, 1 huy chương bạc, 1 huy chương đồng và phá 8 kỷ lục SEA Games. Quê hương của chị Ánh Viên là một thành phố ở trung tâm đồng bằng sông Cửu Long, có tên gọi dân gian là Tây Đô. Đó là thành phố ...

4) “Ta thà làm quỷ nước Nam chứ không thèm làm vương đất Bắc”. Đó là một câu nói nổi tiếng trong lịch sử Việt Nam. Người nói câu này có tên là ...)

- *Additional clue: the vertical framed column: the English name of an animal (mouse, buffalo, tiger, ...) used as the symbol of this year (2015) in many Asian countries, including Vietnam.*



Question 3: Lan is taking a temperature measurement with a medical thermometer (picture 2). After taking it, the measurement is shown in picture 3.



a) What is the measurement in picture 3?

b) This measurement shows which of the body states: hot, normal, or cold?

Question 4: Read the newspaper extract, and do the request that follows:

Sau đây là thông tin trên báo Tuổi Trẻ ngày 19/3/2015 và một số báo khác:

“Shisha: một chất hút gây nghiện độc hại hơn cả thuốc lá.

Đó là một loại cỏ có tẩm hương liệu. Chất này được đốt trong một bình và người dùng hút khói của nó qua một đường ống (picture 4). Thời gian qua, shisha được nhiều người trên thế giới sử dụng, trong đó có thanh thiếu niên Việt Nam.

Theo chuyên gia Tracey E. Barnett, Đại học Florida (Mỹ), người hút shisha có thể bị ngộ độc khí CO (carbon

monoxide, cũng là loại khí có trong khói thải của động cơ xe máy), có thể mắc các bệnh đường hô hấp, viêm phế quản mãn tính, cúm và lao, có thể bị lây truyền virus viêm gan C. Sử dụng chất này lâu dài có thể gây nghiện và dẫn đến các bệnh tim mạch, ung thư (như ung thư phổi, ung thư miệng)...”



Picture 4

Em hãy viết một câu khẩu hiệu ngắn **bằng tiếng Anh** (không quá 10 từ) thể hiện thái độ hoặc hành động cần thiết của học sinh đối với chất shisha.

.....

Question 5: Picture 5a and picture 5b have three details drawn differently. The first different detail is on the hat and is circled in picture 5b. Circle the two other different details in picture 5b.



Picture 5a

Picture 5b

Question 6: Following is an English proverb:

When you eat a fruit, think of the man who planted the tree.

What is the equivalent Vietnamese proverb to the above-mentioned English one?

.....

Question 7: A foreign tourist is standing on Le Loi street in front of the Ben Thanh market in Ho Chi Minh city, and he is asking for the way to walk to the Duc Ba cathedral. Show him the way in English (using no more than 20 words).




Picture 6

Prompt: Picture 6 is part of a map of the city center, A is the location of the Ben Thanh market and B is the location of the Duc Ba cathedral.

.....

Question 8: This is the miniature picture of a rectangular garden as shown in the following picture.



Picture 7

a) Use the ruler given to you to measure the sides of the picture, then write down the length of the sides of the rectangle:

_____ (cm),

_____ (cm).

b) The given fact is that the sides of picture 7 are drawn to the proportion 1 : 2000. The area of the garden is:

_____ (m²).

Question 9: Read the newspaper extract, and do the request that follows:

“Theo báo cáo của Tổng công ty cấp nước Sài Gòn (Sawaco), tỷ lệ thất thoát nước máy trên địa bàn TP.HCM tính đến cuối năm 2014 là 33,5%, tức 500000 m³ nước bị thất thoát mỗi ngày.”

Cho rằng lượng nước máy sử dụng trung bình của một người dân thành phố trong một tháng (30 ngày) là 4m³. Nếu lượng nước thất thoát giảm còn 20,1% tức chỉ còn 300 000m³ nước bị thất thoát mỗi ngày thì có thêm bao nhiêu người dân có thể được cung cấp nước từ nhà máy nước của thành phố?

(Students have to write down the calculations and the result, and do not have to write down any explanation.)

.....

 Result:persons.

Question 10: Read the newspaper extract, and do the requests that follow:

Vào tháng 5 năm 2015, trên một tờ báo ở nước ta có bài viết về một thanh niên tên Phúc tạo dựng một trang trại nuôi và bán chim bồ câu. Bài viết có đoạn:

“Qua gần 7 năm khởi nghiệp, trang trại của Phúc đang có 3 khu chuồng nuôi chim bồ câu sinh sản, chim bồ câu thương phẩm và chim cu gáy phục vụ nhu cầu chơi chim cảnh. Mỗi tháng, trang trại cung cấp ra thị trường khoảng 1500 cặp chim giống và 1000 cặp chim thương phẩm. “Với giá bán của loại chim giống khoảng 200000 đồng/cặp và loại chim thương phẩm là 70000 đồng/con, doanh thu mỗi tháng được khoảng 370 triệu đồng, trừ chi phí thức ăn và trả lương công nhân, tiền lãi thu về cũng còn được khá lớn”, Phúc cho biết.”

a) Trong các dữ liệu được gạch dưới của đoạn trích trên, có một dữ liệu không phù hợp với các dữ liệu khác. Dữ liệu không phù hợp đó là:

.....

b) Em hãy điều chỉnh và viết lại dữ liệu này ở dòng dưới để các dữ liệu phù hợp với nhau.

.....

THE END

ĐÁP ÁN BÀI KHẢO SÁT TRẮC NGHIỆM

(NĂM HỌC 2015 – 2016)

Câu	Đáp án	Lí giải
1	A	Hai vế trong câu văn có chỗ trống là 2 vế có quan hệ nguyên nhân – hệ quả (Hệ quả được đảo lên đầu, nguyên nhân sau). Thế nên từ nối phải là từ “vì”.
2	A	Hình 1a là bóng đen của hình 1e.
3	D	<p>Con chó x con gà = con chó</p> <p>Con mèo : con gà = con mèo</p> <p>Suy ra, con gà = 1</p> <p>Con chó – con mèo = con gà = 1</p> <p>Con chó + con mèo = 10 + con gà = 10 + 1 = 11</p> <p>Sử dụng toán tổng - hiệu, suy ra con chó = $(11 + 1) : 2 = 6$</p>
4	B	Trong câu tục ngữ “Một sự nhịn là chín sự lành”, từ “lành” có nghĩa là tốt lành.
5	C	Thứ tự đúng để ghép thành một bức tranh hoàn chỉnh là : 3b, 3d, 3a, 3c
6	B	<p>Lí giải:</p> <p>Do năm 2015 là năm thường, nên từ ngày 1 tháng 1 năm 2015 đến ngày 1 tháng 1 năm 2016 có 365 ngày.</p> <p>Một tuần có 7 ngày.</p> <p>Ta có $365 : 7 = 52$ (dư 1).</p> <p>Suy ra từ ngày 1 tháng 1 năm 2015 đến ngày 1 tháng 1 năm 2016 có 52 tuần và dư ra 1 ngày. Vậy ngày 1 tháng 1 năm 2016 là thứ</p>

		sáu.
7	D	<i>Bức ảnh số 4 là bức ảnh chiếc xe tăng của quân giải phóng tiến vào Dinh Độc Lập trưa ngày 30/4/1975.</i>
8	A	Trần Quốc Tuấn, còn được gọi là Hưng Đạo đại vương là một nhà chính trị, quân sự, tôn thất hoàng gia <u>Đại Việt</u> thời <u>Trần</u> . Ông nổi bật với việc chỉ huy quân đội đánh tan <u>hai cuộc xâm lược của quân Nguyên-Mông năm 1285 và năm 1288.</u>
9	C	<p>Sau khi ra ngoài trời dưới nắng trong một khoảng thời gian dài, khi quay về nhà, nhiều người có thói quen uống nước đá, tuy nhiên thói quen đó không có lợi cho sức khỏe, bởi vì khi vừa đi nắng về, thân nhiệt tăng cao, nếu nạp ngay đồ lạnh vào có thể gây sốc nhiệt, dễ dẫn đến cảm mạo, say nắng, đau họng và sốt; Bạn cũng không nên uống nước thật nóng ngay lúc đó bởi uống nước thật nóng chỉ khiến thân nhiệt của bạn càng tăng cao,</p> <p>Tắm ngay sau khi đi nắng về khiến cơ thể chưa kịp điều chỉnh cân bằng nhiệt độ, nhiệt độ hạ đột ngột khiến cơ thể chưa thích nghi dễ dẫn đến đau đầu. Hơn nữa, khi cơ nhiệt độ cơ thể đang cao, các lỗ chân lông nở ra. Nếu tắm nước lạnh ngay sẽ làm cho cái lạnh thấm vào người đột ngột, dễ gây nhiều bệnh, ví dụ như <u>chóng mắt, đau đầu....</u></p> <p>Khi đi nắng về tốt nhất bạn nên nghỉ ngơi một chút cho bớt nóng rồi hãy uống/ăn đồ lạnh. Nếu quá khát thì bạn có thể uống nước nguội hoặc ấm để an toàn cho sức khỏe. Nếu muốn đi tắm ngay, bạn cũng nên nghỉ ngơi ít phút sau đó mới rửa chân, tay trước (nhất là vùng chân). Lúc thân nhiệt hơi dịu, mới rửa mặt để toàn cơ thể sẽ được hạ nhiệt đều, không gây tổn hại đến các phần khác trong cơ thể.</p>
10	A	<p>Từ công thức, ta thấy lượng nước mỗi người cần uống chắc chắn phải lớn hơn 1.2 lít.</p> <p>Giả sử trọng lượng cơ thể người là 50kg thì lượng nước cần là: $0.01 \times 50 + 1.2 = 1.7$ lít.</p>

11	D	Ta có: 1 inch = 2.54cm. Do đó chiều cao của sinh viên này là: $50 \times 2.54 = 127\text{cm}$
12	C	Biển báo giao thông có nền màu đỏ và vạch ngang màu trắng là biển báo cấm đi ngược chiều.
13	C	Rau củ là loại thực phẩm giàu chất xơ. Chất xơ giúp làm giảm lượng đường trong máu và thậm chí có thể ngăn ngừa một số bệnh (như ung thư ruột già; bệnh trĩ...)
14	C	Ảnh trong hình 6 là ảnh của đại tướng Võ Nguyên Giáp (<u>25 / 8 /1911 – 4 /10 /2013</u>), là một nhà chỉ huy quân sự và chính trị gia của <u>Việt Nam</u> . Ông là <u>Đại tướng đầu tiên</u> , Tổng tư lệnh của <u>Quân đội Nhân dân Việt Nam</u> ,
15	B	Thuyền buồm có thể di chuyển chủ yếu nhờ vào sức của gió.
16	A	Theo Niên giám thống kê năm 2015 của Cục Thống kê TP.HCM, hiện nay thành phố có 24 quận huyện, trong đó có 19 quận và 5 huyện. Huyện Cần Giờ là huyện tiếp giáp với biển Đông, đồng thời là huyện có diện tích lớn nhất trong 24 quận huyện với 704,22 km ² , gấp hơn 168 lần quận nhỏ nhất là Quận 4 (diện tích 4,18 km ²).
17	C	Muối là loại thực phẩm chỉ nên dùng không quá 10gam mỗi ngày bởi muối dung nạp nhiều muối và cơ thể sẽ gây ra nhiều hậu quả: Bệnh huyết áp, bệnh tim, bệnh loãng xương, bệnh thận...
18	B	
19	B	Quy luật của các dãy là: Ghép hai hình số 2 và 3 của mỗi dãy lại thì được hình đầu tiên.
20	D	Nhiệt độ ngoài trời vào mùa hè ở thành phố Hồ Chí Minh khoảng 30-34 độ C, trong phòng nên để điều hòa nhiệt độ ở mức 20 – 24 độ C.

21	B	<p>Bếp ga, bếp dầu, bếp than đều hoạt động trên nguyên lí đốt cháy nhiên liệu (khí gas/ dầu/ than) để sinh ra ngọn lửa ,chính vì vậy bếp cần được cung cấp khí oxi để tạo ra phản ứng cháy. Để bếp hoạt động được giữa đáy nồi và thân bếp cần có khoảng cách (như kiềng bếp) , không gian này sẽ giúp ngọn lửa sinh ra có thể làm nóng đáy nồi và chín thức ăn bên trong.</p> <p>Trong số những bếp trên, chỉ có bếp điện là loại bếp không cần ô-xy trong không khí để tạo nên sự cháy.</p>
22	A	<p>Vận tốc của Minh là: $30 : 6 = 5\text{m/s}$ Vận tốc của Anh là: $40 : 10 = 4\text{m/s}$ Vận tốc của Hùng là: $54 : 15 = 3.6\text{m/s}$ Vận tốc của Dũng là: $80 : 25 = 3.2\text{m/s}$ Do đó, Minh là người chạy nhanh nhất.</p>
23	B	<p>Vào ban đêm, chúng ta không nên để nhiều cây xanh trong phòng ngủ của mình bởi ban đêm là thời điểm hầu hết các loại cây hút oxi nhà khí các bo nic khiến chúng ta hít phải khí độc.</p>
24	B	<p>Tỉnh Đắk Lắk là trung tâm của Tây Nguyên. <u>Phía Đông</u> của Đắk Lắk giáp <u>Phú Yên</u> và <u>Khánh Hoà</u>; <u>Phía Nam</u> giáp <u>Lâm Đồng</u> và <u>Đắk Nông</u>; <u>Phía Tây</u> giáp <u>Campuchia</u>; Phía Bắc giáp Gia Lai; Không có phía nào giáp biển.</p>
25	D	<p>Minh mua hết số tiền là: $5000 + 12000 + 4000 = 21000$ đồng. Do đó, chủ cửa hàng trả lại cho mẹ Minh số tiền là: $50000 - 21000 = 29000$ đồng</p>
26	C	<p>Cụm từ “non sông” trong đoạn thư trên là cụm từ đồng nghĩa với các từ sau: Giang sơn, đất nước, quê hương.</p>
27	C	<p>Cụm từ “chim gù” trong đoạn trích có cấu tạo : Danh từ chỉ một loài vật + hoạt động tạo tiếng kêu, vì vậy nó tương đương với các cụm “gà gáy”, “chuột rúc”, “ngựa hí” và không liên quan với</p>

		cụm từ “lợn què” (danh từ chỉ một loại vật + tính từ).
28	D	Câu 2,3,4 đều nói về tinh thần đoàn kết giữa những người trong cùng 1 gia đình, 1 quốc gia, dân tộc. Riêng câu 1 nói về chủ đề khác (lòng biết ơn với những người đã vất vả để tạo ra hạt lúa, hạt gạo)
29	A	Mỗi phút người đó đi được số m là: $100 \times 0.4 = 40m$ Mỗi tuần đi bộ $6km = 6000m$, cần số thời gian là: $6000 : 40 = 150$ phút Đổi 150 phút = 2 tiếng 30 phút.
30	A	Máy bay xuất phát từ HCM lúc 6 giờ sáng (theo giờ Việt Nam) và đến Singapore lúc 9:10 sáng theo giờ Singapore, tức là 8:10 sáng theo giờ Việt Nam (do đồng hồ ở Singapore nhanh hơn ở Việt Nam 1 giờ). Vậy bay từ HCM sang Singapore hay từ Singapore về HCM hết số thời gian là: 8 giờ 10 phút - 6 giờ = 2 giờ 10 phút Suy ra, nếu máy bay xuất phát từ Singapore lúc 2:20 chiều (theo giờ Singapore) thì sẽ đến HCM lúc : 2 giờ 20 phút + 2 giờ 10 phút = 4 giờ 30 phút (theo giờ Singapore) Do đó máy bay đến HCM lúc 4 giờ 30 phút – 1 giờ = 3 giờ 30 phút chiều theo giờ Việt Nam.

ĐÁP ÁN BÀI KHẢO SÁT TỰ LUẬN

Câu	Đáp án & Biểu điểm
1	1): mưa (1đ); 2): Xanh (hoặc Trong, Thảm, Biêng) (1đ); 3): Mây (hoặc Điều) (1đ);

	<p>(4): ngọt (hoặc nhót) (1đ; nếu là một từ khác hợp nghĩa nhưng không hợp vần: 0,5đ)</p> <p>Từ viết nhầm giữa viết hoa và viết thường: trừ 0,5đ/từ.</p> <p>Học sinh dùng từ khác phù hợp vẫn cho điểm.</p>
2	<p>1) NHARONG (1đ)</p> <p>2) HOCHIMINH (1đ)</p> <p>3) CANTHO (1đ)</p> <p>4) TRANBINHTRONG (1đ)</p>
3	<p>a) 36,9° hoặc 36,9 (2đ)</p> <p>b) normal (2đ)</p>
4	<p>Đúng nội dung, yêu cầu, từ vựng, ngữ pháp: 4đ</p> <p>Đúng nội dung, yêu cầu, có sai sót về từ vựng, ngữ pháp: 2đ</p>
5	<p>Khoanh tròn ở bụng: 2đ</p> <p>Khoanh tròn ở lông mày phía trong: 2đ</p>
6	<p>Ăn quả nhớ kẻ trồng cây (hoặc: Uống nước nhớ nguồn; Ăn khoai nhớ kẻ cho dây mà trồng; Ăn gạo nhớ kẻ đơm, xay, giần, sàng;...)</p> <p>(Nếu viết đúng nội dung nhưng có sai, sót về từ ngữ của câu thành ngữ Việt Nam: chỉ cho 2đ)</p>
7	<p>Đúng nội dung, yêu cầu, từ vựng, ngữ pháp: 4đ</p> <p>Đúng nội dung, yêu cầu, có sai sót về từ vựng, ngữ pháp: 2đ</p>
8	<p>a) 4,8 hoặc 4,7 hoặc 4,9 (cm) (1đ) 7,5 hoặc 7,4 hoặc 7,6 (cm)</p> <p>b) (1đ)</p> <p>b) Là hai số trong câu a nhân với nhau rồi nhân cho 400 (2đ)</p> <p>Ví dụ: kết quả trong câu a là 4,8 cm và 7,5 cm thì kết quả trong câu b là 14400 (m²)</p>

9	<p>$500000 - 300000 = 200000 \text{ m}^3/\text{ngày}$ (1đ) (có thể không ghi đơn vị $\text{m}^3/\text{ngày}$)</p> <p>$200000 \times 30 = 6000000 \text{ m}^3/\text{tháng}$ (1đ) (có thể không ghi đơn vị $\text{m}^3/\text{tháng}$)</p> <p>$6000000 : 4 = 1500000$ (1đ) Result: 1500000 persons. (1đ)</p>
10	<p>a) 1000 cặp chim thương phẩm (2đ) hoặc 7000 đồng/con hoặc 370 triệu đồng</p> <p>b) 1000 con chim thương phẩm (2đ) hoặc: 70000 đồng/cặp hoặc: 440 triệu đồng</p>

